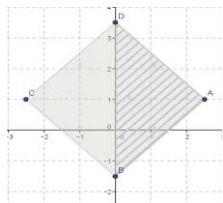


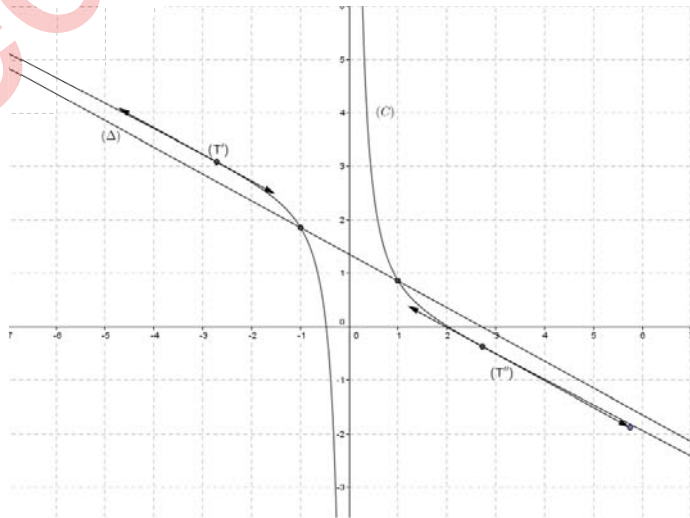
العلامة		عناصر الإجابة
مجموع	مجزأة	

الموضوع الأول

التمرين الأول: (04 نقاط)		
0.50	0.25	(1) التحقق أنّ العددين 5 و 63 أوليان فيما بينهما.
	0.25	تبيين أنّ المعادلة (E) تقبل حولا.
01.25	0.50	(2) البرهان أنه إذا كانت الثنائية (x ; y) حلاً للمعادلة (E) فإن $x \equiv 3[5]$
	0.75	استنتاج حلول المعادلة (E). حلول المعادلة (E) هي $S_{(E)} = \{(5k+3 ; -63k-6) / k \in \mathbb{Z}\}$
01	0.25	(3) ايجاد العددين الطبيعيين α و β : $0 \leq \beta < 5$ و $0 \leq \alpha < 7$ مع $630\beta + 50(-\alpha) = 1590$ يكافئ $a = \sqrt{5\alpha}0\alpha^7 = \sqrt{\beta 10}\beta 0^5$
	0.50	تكافئ $63\beta + 5(-\alpha) = 159$ مع $0 \leq \beta < 5$ و $0 \leq \alpha < 7$ بالتالي نجد $\alpha = 6$ و $\beta = 3$
	0.25	كتابة العدد $\lambda + 2$ في النظام العشري: $\lambda + 2 = 2017$
01.25	0.75	(4) أ) دراسة حسب قيم العدد الطبيعي n ، بواقي القسمة الإقليدية للعدد 3^n على 5. $3^{4p} \equiv 1[5]$, $3^{4p+1} \equiv 3[5]$, $3^{4p+2} \equiv 4[5]$, $3^{4p+3} \equiv 2[5]$, $p \in \mathbb{N}$
	0.50	ب) قيم العدد الطبيعي n حتى يقبل العدد $3^{x-y} + 4n + 1438^{2017}$ القسمة على 5: $3^{x-y} + 4n + 1438^{2017} \equiv 0[5]$ تكافئ $3 + 4n + 3 \equiv 0[5]$ أي : $n = 5k' + 1, k' \in \mathbb{N}$
التمرين الثاني: (04 نقاط)		
01	0.25	(1) أ) التحقق أنّ النقطة A لا تنتمي إلى (Δ) .
	0.50	كتابة تمثيل وسيطي للمستوي (P) الذي يشمل A ويحوي (Δ) . $\begin{cases} x = -\frac{2}{3} + 3\alpha - \frac{2}{3}\beta \\ y = 2 + \alpha + \beta \\ z = -\alpha - \beta \end{cases}, (\alpha; \beta) \in \mathbb{R}^2$
	0.25	ب) بيان أنّ $3x + y - z = 0$ هي معادلة ديكارتية للمستوي (Q) الذي يشمل A و يعامد (Δ) .
	0.25	(2) برهان أنّ: من أجل كل عدد حقيقي m ، (P_m) مستو بما أن المعادلة الديكارتية من الشكل $ax + by + cz + d = 0$ و لا توجد قيمة لـ m تحقق $(m ; -m+2 ; 2m+2) = (0; 0; 0)$ فإن من أجل كل m من \mathbb{R} ، (P_m) مستو.

العلامة		عناصر الإجابة
مجموع	مجزأة	
0.75	0.50	<p>تبيين أن كل المستويات (P_m) تتقاطع وفق (Δ) . لدينا: $m(x-y+2z-1)+(2y+2z-4)=0$ تكافئ $mx-(m-2)y+2(m+1)z-m-4=0$ من أجل كل $m \in \mathbb{R}$: $mx-(m-2)y+2(m+1)z-m-4=0$ تعني : $\begin{cases} x-y+2z-1=0 \\ 2y+2z-4=0 \end{cases}$ إذن جميع المستويات تتقاطع وفق مستقيم ثم نتحقق أنه (Δ) .</p>
01	0.25	3) أ) التَّحَقُّقُ أنَّ المَسْتَوِيَّ (P) هُوَ المَسْتَوِيَّ (P_0) .
	0.25	تعيين قيمة الوسيط الحقيقي m التي يكون من أجلها (P_0) و (P_m) متعامدين: (P_m) يعامد (P_0) من أجل $m=-4$
	0.50	ب) استنتاج إحداثيات H نقطة تقاطع المستويات الثلاث (P_0) ، (P_{-4}) و (Q) . $(P_0) \cap (P_{-4}) \cap (Q) = (\Delta) \cap (Q) = \{H(0;1;1)\}$
01.25	0.25	4) تبيين أن المثلث AOH قائم .
	0.25	إحداثيات النقط M من المستقيم (Δ) حتى يكون v حجم رباعي الوجوه $MAOH$ هو $\frac{11}{9} cm^3$.
	0.50	نجد: مساحة AOH تساوي $\frac{\sqrt{11}}{3} (ua)$ و $v = \frac{11}{9} t $ بالتالي : $\frac{11}{9} t = \frac{11}{9}$: يكافئ $t=1$ أو $t=-1$ $M(-3;0;2)$ و $M'(3;2;0)$.
التمرين الثالث: (05 نقاط)		
0.50	0.50	I) حل المعادلة : $2z^2 - 10z + \frac{29}{2} = 0$. $S = \left\{ \frac{5}{2} - i ; \frac{5}{2} + i \right\}$
01.75	0.50	II) 1) أ) كتابة العددين z_B و z_A على الشكل الجبري : $z_A = \frac{5}{2} + i$ و $z_B = -\frac{3}{2}i$.
	0.50	تعليم النقط A, B, C, D . 
	0.25	ب) الكتابة على الشكل الآسي: $\frac{z_A - z_B}{z_C - z_B} = e^{-i\frac{\pi}{2}}$
	0.50	المثلث ABC قائم في B و متساوي الساقين.

العلامة		عناصر الإجابة																
مجموع	مجزأة																	
0.50	0.25	(3) لاحقة النقطة E نظيرة B بالنسبة إلى D : $Z_D = \frac{7}{2}i$.																
	0.25	$ABCD$ مربع .																
01	0.50	(3) العبارة المركبة للتشابه المباشر S الذي مركزه B ويحول A إلى D هي : $z' - z_B = \frac{1}{2}(1+i)(z - z_B)$.																
	0.50	تحديد النسبة و الزاوية للتشابه S : $\frac{\sqrt{2}}{2}$ و $\frac{\pi}{4}$ زاوية له.																
01.25	0.75	(4) أ) البرهان بالتراجع أن : من أجل كل عدد طبيعي n ، $z_n - z_B = 5 \left(\frac{\sqrt{2}}{2} \right)^{n+1} e^{i\frac{\pi}{4}(n+1)}$.																
	0.25	ب) النقط A_n تنتمي إلى (AB) تكافئ $\arg(z_n - z_B) = \arg(z_0 - z_B)$																
	0.25	تكافئ $\frac{\pi}{4}(n+1) = \frac{\pi}{4} + k\pi / k \in \mathbb{Z}$																
	0.25	نجد : $n = 4k (k \in \mathbb{N})$																
التمرين الرابع: (07 نقاط)																		
0.75	0.25	(I) اتجاه تغيّر الدالة g : الدالة المشتقة : $g'(x) = \frac{x-1}{x}$																
	0.25	الدالة g متناقصة تماما على المجال $]0; 1[$ و متزايدة تماما على المجال $]1; +\infty[$																
	0.25	إشارة $g(x)$: من أجل كل x من المجال $]0; +\infty[$ ، $g(x) \geq 3$ ، ان $g(x) > 0$:																
0.50	0.25	(II) 1) تبين أن : من أجل كل عدد حقيقي x غير معدوم ، $f'(x) = \frac{-g(x^2)}{2x^2}$																
	0.25	اتجاه تغيّر الدالة f : الدالة f متناقصة تماما على كل من المجالين $]0; +\infty[$ و $]-\infty; 0[$																
01.75	0.25	(2) أ) من أجل كل عدد حقيقي x غير معدوم $f(-x) + f(x) = e$																
	0.25	تفسير النتيجة بيانيا: المنحنى (C_f) يقبل النقطة $\Omega(0; \frac{e}{2})$ مركز تناظر له.																
	0.50	ب) $\lim_{x \rightarrow +\infty} f(x) = -\infty$ و $\lim_{x \rightarrow -\infty} f(x) = +\infty$																
	0.50	$\lim_{x \rightarrow 0^+} f(x) = \lim_{-x \rightarrow 0^+} (e - f(-x)) = -\infty$ و $\lim_{x \rightarrow -\infty} f(x) = \lim_{-x \rightarrow +\infty} (e - f(-x)) = +\infty$																
	0.25	جدول تغيّرات الدالة f :																
		<table border="1" style="margin-left: auto; margin-right: auto;"> <tr> <td>x</td> <td>$-\infty$</td> <td>0</td> <td>$+\infty$</td> </tr> <tr> <td>$f'(x)$</td> <td></td> <td>-</td> <td>-</td> </tr> <tr> <td>$f(x)$</td> <td>$+\infty$</td> <td></td> <td>$+\infty$</td> </tr> <tr> <td></td> <td></td> <td>$-\infty$</td> <td>$-\infty$</td> </tr> </table>	x	$-\infty$	0	$+\infty$	$f'(x)$		-	-	$f(x)$	$+\infty$		$+\infty$			$-\infty$	$-\infty$
x	$-\infty$	0	$+\infty$															
$f'(x)$		-	-															
$f(x)$	$+\infty$		$+\infty$															
		$-\infty$	$-\infty$															

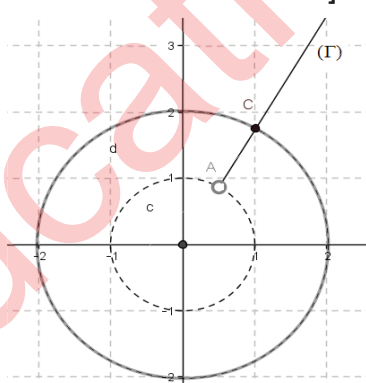
العلامة		عناصر الإجابة
مجموع	مجزأة	
0.75	0.25	(I) تبين أن المستقيم (Δ) ذا المعادلة $y = -\frac{1}{2}x + \frac{e}{2}$ مقارب لـ (C_f) : $\lim_{ x \rightarrow +\infty} \left[f(x) - \left(-\frac{1}{2}x + \frac{e}{2} \right) \right] = 0$
	0.50	وضعية (C_f) بالنسبة إلى (Δ) : (C_f) فوق (Δ) من أجل $x \in]-\infty; -1[\cup]0; 1[$ (C_f) تحت (Δ) من أجل $x \in]-1; 0[\cup]1; +\infty[$ و متقاطعان في النقطتين $A_1\left(1; \frac{e-1}{2}\right)$ و $A_{-1}\left(-1; \frac{e+1}{2}\right)$
01.50	0.50	(4) إثبات أنه يوجد مماسان للمنحنى (C_f) معامل توجيه كل منهما يساوي $-\frac{1}{2}$ $f'(x) = -\frac{1}{2}$ تكافئ $g(x^2) = x^2$ إذن : $x_0 = e$ و $x_1 = -e$
	0.50	معادلة لكلٍ من المماسين : $(T_e): y = -\frac{1}{2}x + \frac{e}{2} - \frac{1}{e}$ و $(T_{-e}): y = -\frac{1}{2}x + \frac{e}{2} + \frac{1}{e}$
	0.50	(ب) تبين أن المنحنى (C_f) يقطع حامل محور الفواصل في نقطتين فاصلتهما α و β حيث $2 < \alpha < 2,1$ و $-0,5 < \beta < -0,4$
0.75	0.25	(5) رسم : المماسين .
	0.25	رسم : المستقيم (Δ) .
	0.25	رسم : المنحنى (C_f) : 

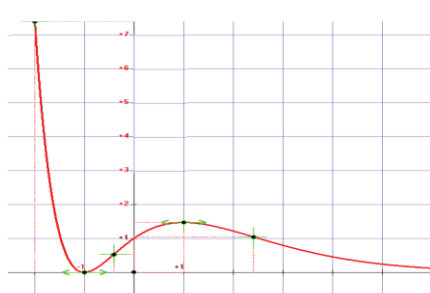
العلامة		عناصر الإجابة
مجموع	مجزأة	
0.50	0.25	(6) تعيين قيم الوسيط الحقيقي m حتى تقبل المعادلة $x(e-2m) = \ln(x^2)$ حلاً وحيداً:
	0.25	$f(x) = -\frac{1}{2}x + m$ تكافئ $x(e-2m) = \ln(x^2)$ مجموعة قيم m هي : $]-\infty; \frac{e}{2} - \frac{1}{e}[\cup]\frac{e}{2} + \frac{1}{e}; +\infty[$
0.50	0.25	(7) حساب $A(\alpha) = \int_1^\alpha [y - f(x)] dx = \frac{1}{2} \int_1^\alpha \left[\frac{\ln(x)}{x} \right] dx$:
	0.25	التحقق أن : $A(\alpha) = \frac{1}{2} (\ln \alpha)^2 \text{ cm}^2$

العلامة		عناصر الإجابة
مجموع	مجزأة	

الموضوع الثاني :

العلامة		عناصر الإجابة
مجموع	مجزأة	
التمرين الأول: (04 نقاط)		
01	0.25	(1) حساب الجداء السلمي $\overrightarrow{AB} \cdot \overrightarrow{AC} : \overrightarrow{AB} \cdot \overrightarrow{AC} = 0$.
	0.25 0.50	المثلث ABC قائم في A . مساحته : $S_{ABC} = \frac{\sqrt{70}}{2} u.a$.
01	0.50	(2) التحقق أن : $6x - 5y + 3z + 6 = 0$ معادلة للمستوي (ABC) .
	0.50	معادلة المستوي $(P) : x - 2z + 1 = 0$.
01	0.25	(3) تبين أن المستويين (P) و (Q) متعامدان.
	0.75	تعيين تمثيل وسيطي لـ (Δ) مستقيم تقاطعهما: $\begin{cases} x = 1 - 12\beta \\ y = 3 + 10\beta \\ z = 1 - 6\beta \end{cases} (\beta \in \mathbb{R})$
01	0.25	(4) تعيين (Γ) مجموعة النقط M حتى يكون حجم رباعي الوجوه $MABC$ أصغر من أو يساوي $\frac{35}{9} cm^3$
	0.25	لدينا $V = \frac{1}{3} S_{(ABC)} \times d(M; (ABC)) = \frac{35 t-1 }{9} u.v$
	0.50	$V < \frac{35}{9} u.v$ معناه $t \in [0; 1[\cup]1; 2]$ (Γ) القطعة المستقيمة المعرفة كما يلي : $\begin{cases} x = 2t - 1 \\ y = -\frac{5}{3}t + \frac{14}{3} \\ z = t \end{cases} (t \in [0; 2])$ باستثناء النقطة $K(1; 3; 1)$.
التمرين الثاني: (04 نقاط)		
0.75	0.25	(I) 1) تعيين الحلين z_1 و z_2 بدلالة α :
	0.50	الحلان هما : $1 - \sin \alpha + i \cos \alpha$ و $1 - \sin \alpha - i \cos \alpha$ ، $\Delta = -4 \cos^2 \alpha = (2i \cos \alpha)^2$
0.50	0.50	(2) تبين أن : $z_1^{2017} + z_2^{2017} = 1$.

العلامة		عناصر الإجابة
مجموع	مجزأة	
01	0.25	(II) 1) تعيين قيم n بحيث يكون $\left(\frac{z_A}{z_B}\right)^n$ حقيقيا موجبا تماما.
	0.25	لدينا : $\left(\frac{z_A}{z_B}\right)^n = e^{\frac{i2n\pi}{3}}$
	0.50	إذن $\left(\frac{z_A}{z_B}\right)^n$ حقيقي موجب تماما يعني : $\frac{2n\pi}{3} = 2k\pi$ k عدد طبيعي و بالتالي : $n = 3k$ حيث k عدد طبيعي
01	0.25x4	2) طبيعة التحويل S و عناصره المميزة : S تشابه مباشر مركزه النقطة C ، نسبته $\sqrt{3}$ و $\frac{\pi}{6}$ وزاوية له .
0.75	0.25	3) التحقق أن النقطة C تنتمي إلى (Γ) :
	0.25	تحديد طبيعة (Γ) وإنشائها: (Γ) هي نصف المستقيم AC .
	0.25	
التمرين الثالث: (05 نقاط)		
01.25	3x0.25	1) أ) تبين أن: من أجل كل عدد طبيعي n ، $u_n = \frac{1}{3}(4^n - 1)$.
	0.50	ب) العددان الطبيعيان u_n و u_{n+1} أوليان فيما بينهما. (مبرهنة بيزو أو أي طريقة أخرى) .
1.25	0.25 2x0.25	2) أ) من أجل كل n طبيعي : $v_{n+1} = 4.v_n$ الأساس و الحد الأول : $q = 4$ ، $v_0 = \frac{1}{3}$
	0.50	ب) المجموع S_n : $S_n = \frac{1}{9}(4^{3n+1} - 1)$
0.75	0.75	3) القاسم المشترك الأكبر للعددين الطبيعيين $4^n - 1$ و $4^{n+1} - 1$: $PGCD(4^{n+1} - 1 ; 4^n - 1) = PGCD(3u_{n+1} ; 3u_n) = 3$

العلامة		عناصر الإجابة															
مجموع	مجزأة																
1.75	01	(4 أ) بواقي القسمة الإقليدية للعدد 4^n على 7 : $4^{3p} \equiv 1[7], 4^{3p+1} \equiv 4[7], 4^{3p+2} \equiv 2[7] / p \in \mathbb{N}$															
	0.75	(ب) قيم العدد الطبيعي n حتى يقبل العدد A_n القسمة على 7 : $n = 7k + 1, / k \in \mathbb{N}$ تكافئ $A_n \equiv 0[7]$															
التمرين الرابع: (07 نقاط)																	
0.50	0.50	(I) $\lim_{x \rightarrow +\infty} f(x) = 0, \lim_{x \rightarrow -\infty} f(x) = +\infty$															
0.75	0.25	(2) اتجاه تغير الدالة f : لدينا $f'(x) = (-x^2 + 1)e^{-x}$															
	0.25	الدالة f متناقصة تماما على المجالين: $]-\infty; -1]$ ، $]-1; +\infty[$ و متزايدة تماما على المجال: $]-1; 1]$															
	0.25	(3) جدول تغيرات الدالة f :															
		<table border="1" style="margin-left: auto; margin-right: auto;"> <tr> <td>x</td> <td>$-\infty$</td> <td>-1</td> <td>1</td> <td>$+\infty$</td> </tr> <tr> <td>$f'(x)$</td> <td>$-$</td> <td>0</td> <td>$+$</td> <td>0</td> </tr> <tr> <td>$f(x)$</td> <td>$+\infty$</td> <td>0</td> <td>$\frac{4}{e}$</td> <td>0</td> </tr> </table>	x	$-\infty$	-1	1	$+\infty$	$f'(x)$	$-$	0	$+$	0	$f(x)$	$+\infty$	0	$\frac{4}{e}$	0
x	$-\infty$	-1	1	$+\infty$													
$f'(x)$	$-$	0	$+$	0													
$f(x)$	$+\infty$	0	$\frac{4}{e}$	0													
1.50	0.25	(4) المنحني (C) يقبل نقطتي انعطاف: لدينا $f''(x) = (x^2 - 2x - 1)e^{-x}$															
	0.50	الدالة المشتقة الثانية تتعدم عند كل من: $x_1 = 1 - \sqrt{2}$ و $x_2 = 1 + \sqrt{2}$ مغيرة إشارتها. أي للمنحني (C) نقطتي انعطاف: $(1 - \sqrt{2}; (2 - \sqrt{2})^2 e^{\sqrt{2}-1})$ ، $(1 + \sqrt{2}; (2 + \sqrt{2})^2 e^{-\sqrt{2}-1})$															
	0.25	$f(-2) = e^2$															
		رسم المنحني (C):															
	0.50																
0.50	0.50	(II) (1) جميع المنحنيات (C_m) تشمل نقطة ثابتة ω : من أجل كل m من \mathbb{R} $(x^2 + 1)e^{-x} - y + mx = 0$ ، تعني: $(x^2 + 1)e^{-x} - y = 0$ و $x = 0$ إذن: $\omega(0;1)$															
	0.25	(2) اتجاه تغير الدالة f_m : لدينا $f_m'(x) = (-x^2 + (2-m)x + m - 1)e^{-x}$ إشارة $f_m'(x)$ من إشارة $-x^2 + (2-m)x + m - 1$ المميز: $\Delta = m^2$															
	0.25																

العلامة		عناصر الإجابة
مجموع	مجزأة	
1.75	0.25	<ul style="list-style-type: none"> • إذا كان $m=0$: الدالة f_m متناقصة تماما على \mathbb{R} . • إذا كان $m > 0$: الدالة f_m متناقصة تماما على المجالين $]-\infty ; 1-m[$ و $[1 ; +\infty[$ و متزايدة تماما على المجال $[1-m ; 1]$ • $m < 0$: الدالة f_m متناقصة تماما على $]-\infty ; 1[$ و $[1-m ; +\infty[$ و متزايدة تماما على $[1 ; 1-m]$
	0.25	قيم m التي من أجلها تقبل الدالة f_m قيمتين حديتين: $m \in \mathbb{R}^*$
	0.50	القيمتين الحديتين من أجل $m \in \mathbb{R}^*$: $f_m(1) = (2+m)e^{-1}$ و $f_m(1-m) = (-m+2)e^{m-1}$
	0.50	<p>(3) عندما m يسمح \mathbb{R} ، M_m تنتمي إلى منحن: لدينا $\begin{cases} x=1-m \\ y=(2-m)e^{-1+m} \end{cases}$ أي $y=(1+x)e^{-x}$</p> <p>بالتالي M_m : تنتمي إلى المنحني الذي $y=(1+x)e^{-x}$ معادلة له .</p>
0.50	0.50	<p>(4) الوضعية النسبية للمنحنيين (C) و (C_m) : دراسة الوضع النسبي لـ (C) و (C_m) : $f_m(x) - f(x) = (m-2)xe^{-x}$</p> <p>- الحالة الأولى : $m > 2$ (C_m) تحت (C) من أجل $x < 0$ و (C_m) فوق (C) من أجل $x > 0$.</p> <p>- الحالة الثانية : $m < 2$ (C_m) تحت (C) من أجل $x > 0$ و (C_m) فوق (C) من أجل $x < 0$.</p> <p>في الحالتين (C) و (C_m) يتقاطعان في النقطة ω .</p>
01	0.50	<p>(5) حساب بدلالة العدد الحقيقي الموجب تماما α المساحة $A(\alpha)$: باستعمال المكاملة بالتجزئة نجد : $A(\alpha) = \int_0^\alpha [f_3(x) - f(x)] dx = \int_0^\alpha xe^{-x} dx = [(-x-1)e^{-x}]_0^\alpha$</p>
	0.25	إذن : $A(\alpha) = (-\alpha e^{-\alpha} - e^{-\alpha} + 1)$
	0.25	$\lim_{x \rightarrow +\infty} A(\alpha) = 1$