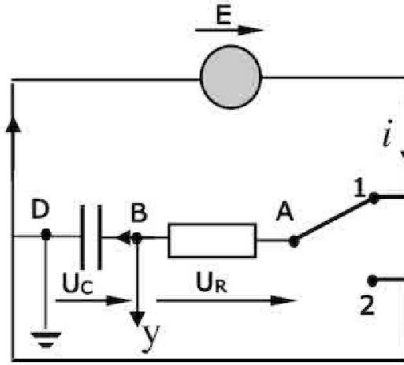


العلامة		عناصر الإجابة (الموضوع الأول)																															
مجموع	مجزأة																																
01	0.25	<p>التمرين الأول: (04 نقاط)</p> <p>1- $Al(s) = Al^{3+}(aq) + 3e^-$</p> <p>$2H_3O^+(aq) + 2e^- = H_2(g) + 2H_2O(l)$</p> <p>$(H_3O^+(aq)/H_2(g)) ; (Al^{3+}(aq)/Al(s))$</p> <p>2- ا- جدول التقدم:</p> <table border="1" style="width: 100%; text-align: center;"> <tr> <th colspan="2">المعادلة</th> <th colspan="4">$2Al(s) + 6 H_3O^+(aq) = 2Al^{3+}(aq) + 3 H_2(g) + 6 H_2O (l)$</th> </tr> <tr> <th>ح ج</th> <th>النقدم</th> <th colspan="4">كميات المادة بال: mol</th> </tr> <tr> <td>ح ا</td> <td>0</td> <td>0.03</td> <td>$1,08 \cdot 10^{-2}$</td> <td>0</td> <td>0</td> <td rowspan="3">تريادة</td> </tr> <tr> <td>ح و</td> <td>x</td> <td>$0.03 - 2x$</td> <td>$1,08 \cdot 10^{-2} - 6x$</td> <td>2x</td> <td>3x</td> </tr> <tr> <td>ح ن</td> <td>x_f</td> <td>$0.03 - 2x_f$</td> <td>$1,08 \cdot 10^{-2} - 6x_f$</td> <td>$2x_f$</td> <td>$3x_f$</td> </tr> </table>	المعادلة		$2Al(s) + 6 H_3O^+(aq) = 2Al^{3+}(aq) + 3 H_2(g) + 6 H_2O (l)$				ح ج	النقدم	كميات المادة بال: mol				ح ا	0	0.03	$1,08 \cdot 10^{-2}$	0	0	تريادة	ح و	x	$0.03 - 2x$	$1,08 \cdot 10^{-2} - 6x$	2x	3x	ح ن	x_f	$0.03 - 2x_f$	$1,08 \cdot 10^{-2} - 6x_f$	$2x_f$	$3x_f$
	المعادلة		$2Al(s) + 6 H_3O^+(aq) = 2Al^{3+}(aq) + 3 H_2(g) + 6 H_2O (l)$																														
ح ج	النقدم	كميات المادة بال: mol																															
ح ا	0	0.03	$1,08 \cdot 10^{-2}$	0	0	تريادة																											
ح و	x	$0.03 - 2x$	$1,08 \cdot 10^{-2} - 6x$	2x	3x																												
ح ن	x_f	$0.03 - 2x_f$	$1,08 \cdot 10^{-2} - 6x_f$	$2x_f$	$3x_f$																												
01	0.5																																
1.25	0.25	<p>ب- $x_{max} = 1,8 \cdot 10^{-3} \text{ mol}$</p> <p>المتفاعل المحدد: H_3O^+</p> <p>3-1 $x = \frac{V_{H_2}}{3V_M}$</p> <p>ب- $V_f(H_2) = 0,13 \text{ L}$</p> <p>ج- $x(t_{\frac{1}{2}}) = \frac{x_{max}}{2}$</p> <p>$V_{H_2} \left(t_{\frac{1}{2}} \right) = x \left(t_{\frac{1}{2}} \right) \cdot 3V_M = \frac{3V_M x_{max}}{2} = \frac{V_f(H_2)}{2}$</p> <p>قيمة $t_{\frac{1}{2}}$: $t_{\frac{1}{2}} = 350 \text{ s}$</p> <p>4-1 $v = \frac{dx}{dt}$</p> <p>$v = \frac{d}{dt} \left(\frac{V_{H_2}}{3V_M} \right)$</p> <p>$v = \frac{1}{3V_M} \frac{dV_{H_2}}{dt}$</p> <p>ب- $v = 2,0 \cdot 10^{-6} \text{ mol/s}$</p>																															
	0.25																																
	0.25																																
	0.25																																
0.75	0.25																																
	0.25																																
	0.25																																

التمرين الثاني: (04 نقاط)

I- البادلة في الوضع (1)

1- جهة التوترات والتيار في الدارة



0.25

0.25

0.25

0.25

2- المعادلة التفاضلية التي يحققها التوتر بين طرفي المكثفة:

$$\frac{dU_{BD}}{dt} + \frac{U_{BD}}{RC} = \frac{E}{RC}$$

0.5

2 × 0.25

$$b = \frac{1}{RC} \quad , \quad A = -E \quad -3$$

0.75

0.25

4- ثابت الزمن $\tau = RC$

τ : الزمن اللازم لبلوغ التوتر بين طرفي المكثفة 63% من قيمته

0.25

العظمى أثناء الشحن.

0.25

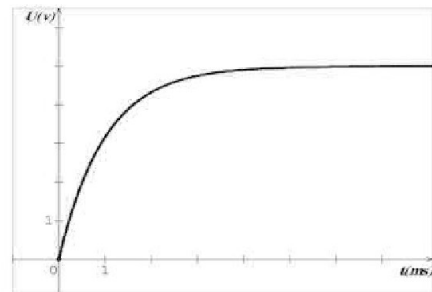
قيمته: $\tau = 10^{-3} \text{ s}$

0.25

5- ربط راسم الاهتزاز المهبطي بالدارة (انظر الشكل أعلاه).

0.5

0.25



II- 1- تستهلك الطاقة على شكل حرارة في الناقل الأومي بفعل جول.

قيمتها

0.75

0.25

$$E_{(c)} = \frac{1}{2} CE^2$$

0.25

$$E_{(c)} = 1,25 \cdot 10^{-6} \text{ J}$$

0.25

		$E'_{(c)} = \frac{1}{2} C_{eq} E^2 \quad -2$
	2×0.25	$C_{eq} = \frac{2E'_{(c)}}{E^2} = 0,3 \times 10^{-6} F = 300 nF$
01	0.25	<p>$C_{eq} > C$ نستنتج أن الربط تم على التفرع.</p>
	0.25	$C_{eq} = C + C'$ <p>إذن:</p>
	0.25	$C' = C_{eq} - C = 200 nF$ <p><u>التمرين الثالث : (04 نقاط)</u></p>
	0.5	<p>1- أ- عشوائي ، تلقائي و حتمي....</p>
	0.25	<p>ب- ${}^{40}_{19}K \longrightarrow {}^{40}_{20}Ca + {}^0_{-1}e$</p>
01	0.25	<p>نمط الإشعاع : β^-</p>
	0.25	<p>2- أ- المنحنى (1) يمثل تغير عدد أنوية الكالسيوم بدلالة الزمن</p>
	0.25	<p>التعليل: لأن نواة ${}^{40}_{20}Ca$ نواة ابن و بالتالي البيان ينطلق من الصفر أي أن $N_0({}^{40}_{20}Ca) = 0$</p>
	0.25	<p>ب- $t = t_{1/2}$</p>
	0.25	<p>التعليل:</p>
	0.5	$N_0({}^{40}_{19}K) = N_t({}^{40}_{19}K) + N_t({}^{40}_{20}Ca)$
02	0.5	$N_0({}^{40}_{19}K) = 2 N_t({}^{40}_{19}K)$
	0.25	$N_t({}^{40}_{19}K) = \frac{N_0({}^{40}_{19}K)}{2}$
	0.25	<p>إذا $t = t_{1/2}$</p>
	0.25	$t_{1/2} = 1,3 \cdot 10^9 \text{ ans}$
	0.25	<p>تقبل الأجوبة الصحيحة الأخرى.</p>
	0.25	<p>ج- $A_0 = \lambda N_0({}^{40}_{19}K)$</p>
	0.25	$A_0 = \frac{\ln 2}{t_{1/2}} N_0({}^{40}_{19}K)$
	0.25	$A_0 = 1,69 \cdot 10^6 \text{ Bq}$
	0.25	<p>3- أ- بيانيا: $t_1 = 3 \cdot 10^9 \text{ ans}$</p>
	0.25	<p>ب- حسابيا: $N({}^{40}_{19}K) = \frac{1}{4} N({}^{40}_{20}Ca)$</p>
01	0.25	$N_0({}^{40}_{19}K) e^{-\lambda t_1} = \frac{1}{4} N_0({}^{40}_{19}K) (1 - e^{-\lambda t_1})$
	0.25	$t_1 = \frac{\ln 5}{\ln 2} t_{1/2}$
	0.25	$t_1 = 3 \cdot 10^9 \text{ ans}$

		التمرين الرابع: (04 نقاط)
		1- دراسة حركة الحجر و كتابة المعادلات الزمنية للحركة
		$\sum \vec{F}_{ext} = m\vec{a}$
		$\vec{P} = m\vec{a}$
		$a_x = 0$
0.25		$a_z = -g$
0.25		$V_x = V_0 \cos \alpha$
0.25		$V_z = -gt + V_0 \sin \alpha$
0.25		$x = V_0 (\cos \alpha) t$
0.25		$z = -\frac{1}{2}gt^2 + V_0(\sin \alpha)t$
1.5		2- معادلة المسار:
0.5	0.5	$z = -\frac{g}{2V_0^2 \cos^2 \alpha} x^2 + (\tan \alpha) x$
		3- المعادلة الزمنية لحركة النقطة M
0.5	0.5	$x_M(t) = -Vt + d$
		4-
		$t_M = \frac{d}{V_0 \cos \alpha + V}$
		$t_M = 1.27 \text{ s}$
0.75	0.25	نعوض قيمة t_M في المعادلة Z(t)
		$h = 1.27 \text{ m}$
		5-
		$V_M = \sqrt{V_0^2 - 2gh}$
0.75	0.5	$V_M = 10.9 \text{ m/s}$
		التمرين التجريبي: (04 نقاط)
0.25	0.25	1- الهدف تسريع النفاصل بالتسخين دون فقدان كمية المادة .
		2- أ-
		$n_0(a) = C_b V'_{be}(t=0)$
		$= 1 \times 0.2 = 0.2 \text{ mol}$
0.25		ب- عند التوازن:
0.5		$n_f(a) = C_b V'_{be}$
		$= 1 \times 0,08 = 0,08 \text{ mol}$
		3- أ-
		$\text{CH}_3\text{COOH}(l) + \text{C}_3\text{H}_7\text{OH}(l) = \text{CH}_3\text{COO}-\text{C}_3\text{H}_7(l) + \text{H}_2\text{O}(l)$

		ب- جدول التقدم					
01	0.25	معادلة التفاعل		$\text{CH}_3\text{COOH}(\text{l}) + \text{C}_3\text{H}_7\text{OH}(\text{l}) = \text{CH}_3\text{COO}-\text{C}_3\text{H}_7(\text{l}) + \text{H}_2\text{O}(\text{l})$			
		ح.ج	التقدم	كميات المادة ب: mol			
		ح.إ	0	0,2	0,2	0	0
		ح.و	x	0,2 - x	0,2- x	x	x
		ح.ن	x_f	0,2 - x_f	0,2 - x_f	x_f	x_f
التركيب المولي للمزيج التفاعلي:							
0.25		الماء	الأستر	الحمض	الكحول		
		0.12 mol	0.12 mol	0.08 mol	0.08 mol		
1.75	0.25	ج- ثابت التوازن:					
	2×0.25	$r = \frac{x_f}{x_{max}} \times 100 = \frac{0,12}{0,2} \times 100 = 60\%$				4- أ- مردود التفاعل	
	0.25					كحول ثانوي	
1.75	2×0.25	$\begin{array}{c} \text{OH} \\ \\ \text{CH}_3-\text{CH}-\text{CH}_3 \end{array}$		ب- propan-2-ol			
	2×0.25	$\begin{array}{c} \text{O} \\ \\ \text{CH}_3-\text{C} \\ \\ \text{O}-\text{CH}-\text{CH}_3 \\ \\ \text{CH}_3 \end{array}$		Etanoate de methylethyl			
0.5	0.25	5- أ - كسر التفاعل الابتدائي $Q_{ri} = \frac{0.2 \times 0.12}{0.1 \times 0.08} = 3$					
	0.25	ب- $k < Q_{ri}$ يتطور التفاعل في اتجاه الإماهة.					

التمرين الثاني: (04 نقاط)

1- تعريفات

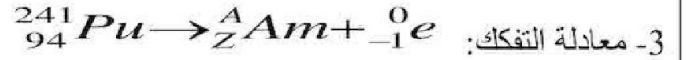
0.75 0.25
0.25 0.25
0.25 0.25

- النظائر : هي ذرات من نفس العنصر لها نفس عدد البروتونات وتختلف في عدد النيوترونات .
- النواة المشعة : هي نواة غير مستقرة تتفكك تلقائيا لتعطي نواة أكثر استقرارا...

- جسيمات β^- : هي عبارة عن إلكترونات ناتجة من تحول نيوترونات إلى بروتونات

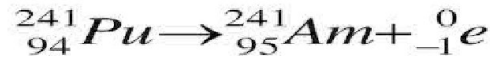
0.5 0.5

2- إيجاد قيمتي كل من x, y : بتطبيق قانونا الانحفاظ $x=3$ ، $y=2$



0.5 0.5

بتطبيق قانونا الانحفاظ نجد : $Z=95$ ، $A=241$



0.25 0.25

4- أ / العلاقة: حسب قانون تناقص النشاط الإشعاعي $A(t) = A_0 e^{-\lambda t}$

0.25 0.25

ومنه: $\frac{A_0}{A(t)} = e^{\lambda t}$

0.25 0.25

ب/ لدينا: $A(t_{1/2}) = \frac{A_0}{2}$ ومنه: $\frac{A_0}{A(t_{1/2})} = 2$

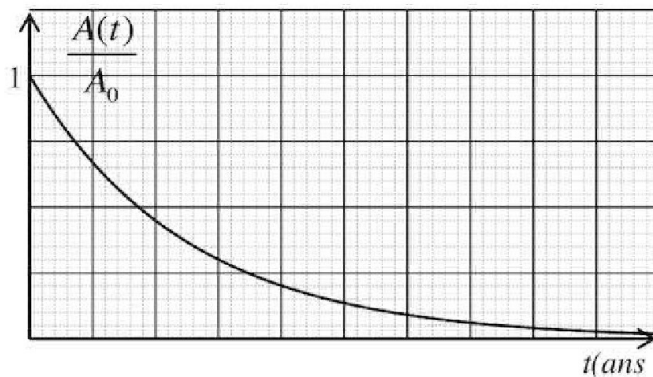
0.5 0.5

بالإسقاط على البيان نجد : $t_{1/2} = 5.5 \times 2.5 = 13.75 \text{ ans}$

2.25 0.5

استنتاج قيمة ثابت التفكك: $\lambda = \frac{\ln 2}{t_{1/2}} = 0.05 \text{ ans}^{-1}$

ج/ تمثيل بيان $\frac{A(t)}{A_0} = f(t)$



التمرين الثالث: (04 نقاط)

1- رسم الدارة:

2- المعادلة التفاضلية للتوتر بين طرفي المكثف:

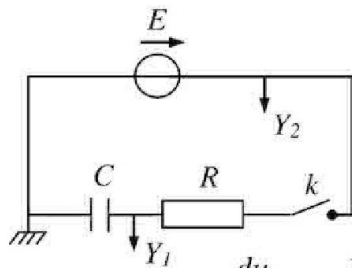
حسب قانون التوترات: $u_{R1} + u_C = E$

حيث: $u_{R1} = R_1 \cdot i$ ، $i = \frac{dq}{dt}$ ، $q = C \cdot u_C$

0.75 0.5

ومنه نجد $R_1 \cdot C \frac{du_C}{dt} + u_C = E$ ونخلص إلى: $\frac{du_C}{dt} + \frac{1}{R_1 \cdot C} u_C = \frac{E}{R_1 \cdot C}$

ب- إيجاد عبارتي A ، B : $u_C(t) = A(1 - e^{-Bt})$ هو حل للمعادلة التفاضلية:



0.5

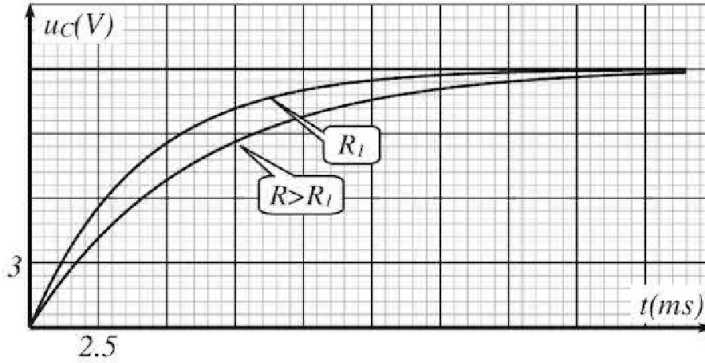
$$ABe^{-Bt} + \frac{A}{R_1.C} - \frac{A}{R_1.C} e^{-Bt} = \frac{E}{R_1.C} \quad \text{بالتعويض نجد:} \quad \frac{du_C}{dt} = ABe^{-Bt}$$

$$B = \frac{1}{R_1.C} \quad , \quad A = E \quad \text{بالمطابقة نجد:}$$

0.5

$$B = \frac{1}{0.004} = 250 \text{ s}^{-1} \quad \text{و} \quad A = 12 \text{ V} \quad \text{بالمطابقة مع البيان نجد:}$$

2.25



ج- التمثيل الكيفي

لـ $u_C = g(t)$ من أجل $R > R_1$

0.5

3- أ- استنتاج سعة المكثفة: لدينا: $\tau = C.R$ ومنه فإن: C هو ميل منحنى الشكل (4)

0.25

$$C = \frac{(3.2 - 1.6) \times 10^{-3}}{(1 - 0.5) \times 10^3} = 3.2 \times 10^{-6} \text{ F}$$

1.25

0.25

- حساب مقاومة الناقل الاومي R_1 : من منحنى الشكل (3) لدينا: $\tau = R_1.C$

$$R_1 = \frac{\tau_1}{C} = \frac{0.004}{3.2 \times 10^{-6}} = 1250 \Omega \quad \text{ومنه:}$$

0.25

ب- كيفية ربط المكثفتين: بما أن السعة المكافئة C أكبر من سعة المكثفة الأولى C_1 فإن الربط على

0.5

التوازي (التفرع) حيث: $C = C_1 + C_2$ ومنه $C_2 = 3.2 - 1 = 2.2 \mu\text{F}$

التمرين الرابع: (04 نقاط)

0.5

0.5

1-1- تمثيل القوى:

0.25

2- المعادلة التفاضلية: بتطبيق القانون الثاني لنيوتن $\sum \vec{F} = \vec{P} + \vec{T} + \vec{R} = m.\vec{a}$

01

0.75

$$A = \frac{k}{m} \quad \text{بالمطابقة نجد:} \quad \frac{d^2x(t)}{dt^2} + \frac{k}{m}x(t) = 0 \quad \text{نجد:} \quad -T = m.a$$

0.25

3- أ- تعيين القيم: السعة: $X = 2 \times 2.5 = 5 \text{ cm}$

0.25

الدور: $T_0 = 2 \times 0.1 = 0.2 \text{ s}$

الطور الابتدائي: $x(t) = X.\cos(\omega_0 t + \varphi)$ عندما يكون: $t = 0 \text{ s}$

02

0.25

نجد: $x(0) = X.\cos(\varphi) = X$ ومنه: $\cos(\varphi) = 1$ أي أن: $\varphi = 0$

0.25

- نبض الحركة: $\omega_0 = \frac{2\pi}{T_0} = 31.4 = 10.\pi \text{ rad / s}$

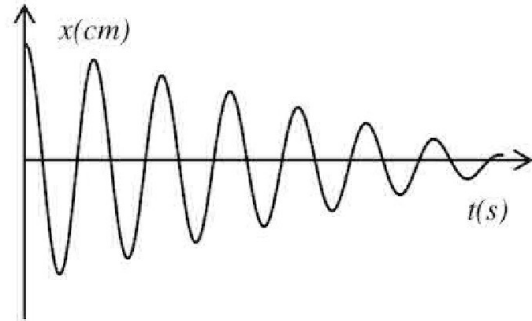
0.5

- حساب k: لدينا $T_0 = 2\pi\sqrt{\frac{m}{k}}$ نجد $k = \left(\frac{2\pi}{T_0}\right)^2.m \approx 100 \text{ N / m}$

0.5

ب- كتابة المعادلة الزمنية: $x(t) = 5.\cos(10.\pi.t) \text{ ..cm}$

II- البيان المتوقع: سعة الحركة تتناقص لوجود الاحتكاك الضعيف.



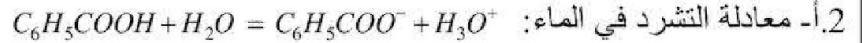
التمرين التجريبي: (04 نقاط)

1. أ- حجم المحلول التجاري: من علاقة التخفيف $C_1 \cdot V_1 = C_0 \cdot V_0$ ومنه: $V_0 = \frac{0,01 \times 50}{0,025} = 20 \text{ mL}$

ب- البروتوكول التجريبي.

الزجاجيتان المستعملتان: حوالة عيارية (50mL) ، ماصة عيارية (20mL)

ج- معنى مصطلح عيارية: خط دائري في أعلى الزجاجية يدل على حجم المحلول عنده.



الثنائيتان: H_3O^+ / H_2O ، $C_6H_5COOH / C_6H_5COO^-$

ب- كسر التفاعل: لدينا: $Q_r = \frac{[C_6H_5COO^-][H_3O^+]}{[C_6H_5COOH]}$

- كسر التفاعل النهائي: $K = Q_{rf} = \frac{[C_6H_5COO^-]_f [H_3O^+]_f}{[C_6H_5COOH]_f} = \frac{(10^{-3,12})^2}{0,01 - 10^{-3,12}} = 6,23 \times 10^{-5}$

3. أ- يستعمل المخلاط المغناطيسي لجعل المزيج متجانس

ب- الجدول:

حجم الماء المضاف (mL)	0	10	40
C(mol/L)	0,01	0,005	0,002
pH	3,12	3,28	3,49
τ_f	0,076	0,105	0,162

- يقل تركيز المحلول بإضافة الماء

- تزداد نسبة التقدم بإضافة الماء