

## الجمهورية الجزائرية الديمقراطية الشعبية

الديوان الوطني للامتحانات والمسابقات

دورة: جوان 2010

وزارة التربية الوطنية

امتحان بكالوريا التعليم الثانوي

الشعبة: تسيير واقتصاد (ن.ج)

المدة: 03 ساعات ونصف

اختبار في مادة: التاريخ و الجغرافيا

على المترشح أن يختار أحد الموضوعين التاليين:

الموضوع الأولالتاريخالجزء الأول: ( 06 نقاط )

لم يقف أعضاء المنظمة العسكرية موقف المتفرج من الانشقاق الذي حدث داخل الحزب... فلقد حاول بعض أعضاء المنظمة إصلاح الوضع وفك النزاع وتوحيد مناضلي الحزب، والافتناع بأن الوسيلة الوحيدة للاستقلال هي الكفاح المسلح، ولكن هذه المحاولات باءت بالفشل، مما زاد في افتناع هؤلاء المناضلين بأن خير الجائز في الإسراع بالشروع في الكفاح المسلح خاصة وهم يشاهدون الوضع المزري الذي يعيشه الشعب الجزائري... وهم يشاهدون أيضا بعض البلدان المبتلاة بالاحتلال الفرنسي تعلن عليه الحرب.

الكتاب المدرسي - ص: 173.

1- اشرح ما تحته خط.

2- عرف بالشخصيات التالية:

مصطفى بن بولعيد - العربي بن مهيدي - كريم بلقاسم - فرحات عباس .

3- إليك خريطة الجزائر الصماء وقّع عليها ولايات الثورة حسب تقسيم مؤتمر الصومام 1956.

الجزء الثاني: ( 04 نقاط )

شهد العالم في فترة ما بعد الحرب العالمية الثانية تأزما في العلاقات الدولية، كاد أن يؤدي إلى حرب عالمية ثالثة.

المطلوب: انطلاقا من القول، واعتمادا على ما درست. اكتب مقالا تاريخيا تجيب فيه على:

1- أسباب التأزم في العلاقات الدولية.

2- بؤر التوتر في العالم بين 1949 - 1962.

## الجغرافيا

### الجزء الأول: ( 06 نقاط )

إن الصين بحكم إقليمها الواسع ووزنها الديموغرافي الضخم في آسيا، قد تحولت إلى ما يسمى بورشة ومخابر العالم. فسياسة الانفتاح التي تبنتها الدولة الشيوعية جعلت البلاد بمثابة قاطرة تجر كل عربات آسيا. تعتبر الصين المحطة الأولى لرؤوس الأموال الأجنبية (35 مليار دولار 2003) تنتج ما بين 20% من النسيج العالمي و 15% من الأجهزة الإلكترونية، وقد أصبحت بذلك خامس دولة مصدرة في العالم، وتحتل المرتبة السادسة في الاقتصاد العالمي بفضل دخلها القومي الخام البالغ 1200 مليار دولار سنة 2002. تساهم مؤسسات البلاد البالغة مليوني مؤسسة في نماء ثروة البلاد تماشيا مع مبدأ اعتماد نظامين سياسيين: الاقتصاد الاشتراكي والانفتاح على السوق.

كتاب الجغرافيا السنة الثالثة ثانوي - ص: 93.

1- اشرح ما تحته خط في النص.

2- إليك جدولا يمثل التنمية في بعض الأقطار الصناعية الجديدة في شرق وجنوب شرق آسيا:

الأقطار			المؤشرات
سنغافورة	تايوان	كوريا الجنوبية	
0.77	0.81	0.90	نسبة النمو الطبيعي %
78	75	74.5	أمل الحياة عند الولادة (سنة)
08.2	04.5	02.5	نسبة الأمية %
09	05.7	08.5	نسبة نمو الناتج الداخلي الخام %
24150	14215	8490	الناتج الخام للفرد بالدولار

ملاحح الاقتصاد العالمي - 2004.

- علق على المؤشرات الواردة في الجدول.

3- وقّع على خريطة شرق وجنوب شرق آسيا الدول الواردة في الجدول.

### الجزء الثاني: ( 04 نقاط )

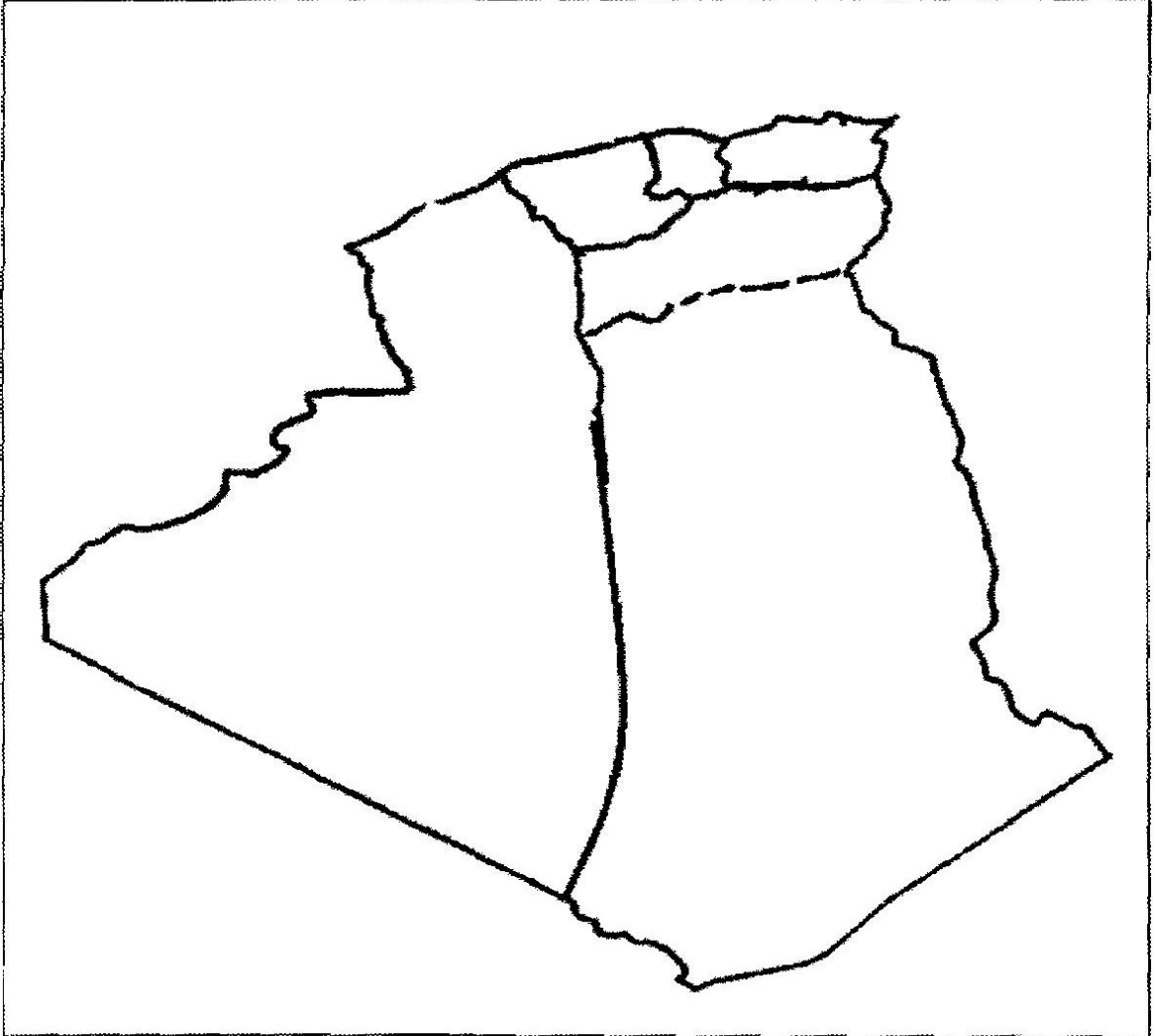
أدى تنوع عوامل الإنتاج في العالم إلى زيادة وكثرة البضائع والخدمات ورؤوس الأموال والإعلام، وقد ساعد أيضا على نمو تلك المبادلات والتقلات وتنوعها. ما شهده العالم من تطور في وسائل النقل والاتصال.

المطلوب: انطلاقا من الفكرة، واعتمادا على ما درست. اكتب مقالا جغرافيا تجيب فيه على:

1- أسباب تنامي حركة رؤوس الأموال في العالم.

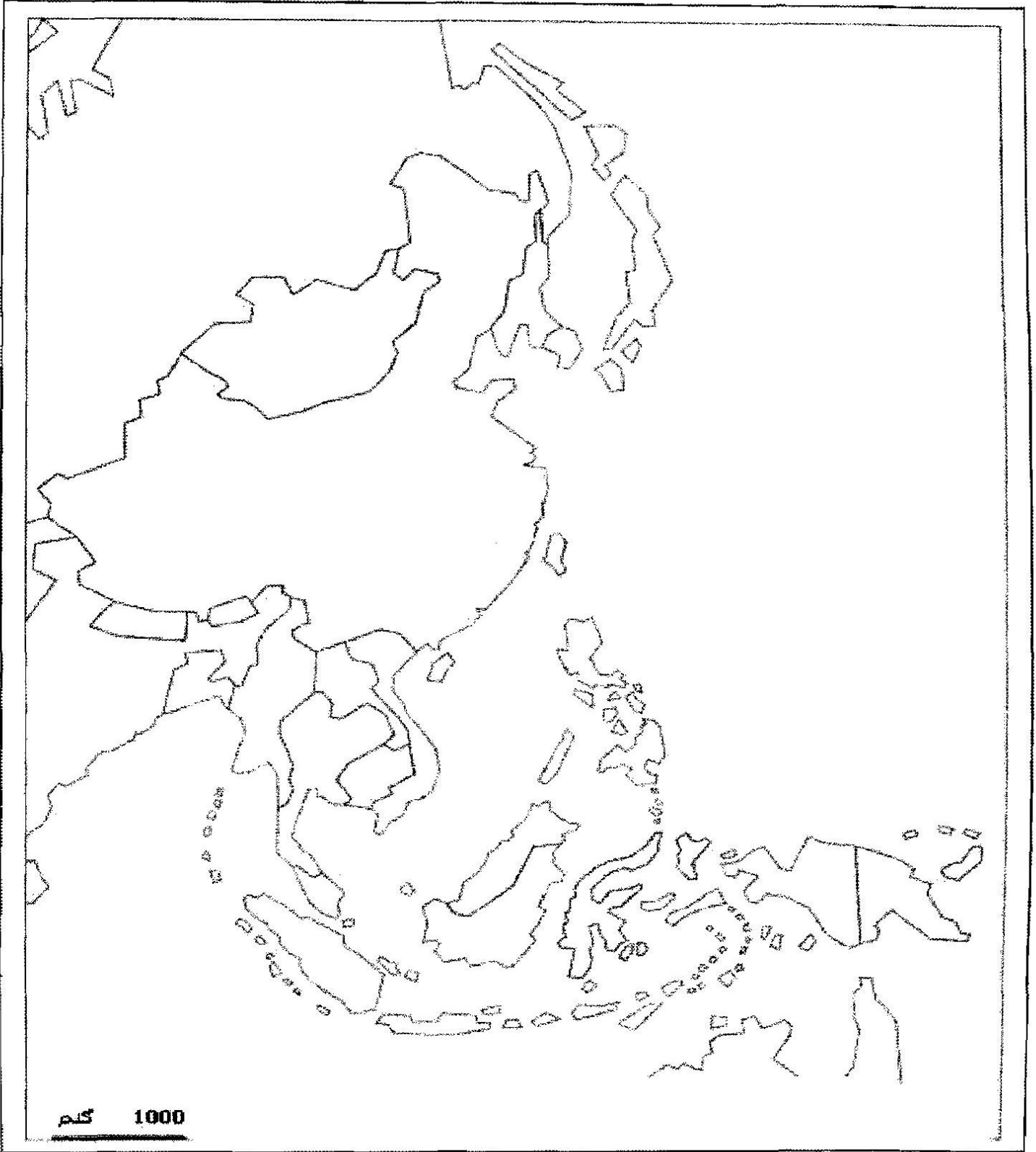
2- مظاهر هيمنة الشمال على الجنوب في هذا المجال.

### خريطة الجزائر



ينجز العمل على الخريطة وتعاد مع أوراق الإجابة

### شرق وجنوب شرق آسيا



ينجز العمل على الخريطة وتعاد مع أوراق الإجابة

## الموضوع الثاني

### التاريخ

#### الجزء الأول: ( 06 نقاط )

« كان الانطباع الذي تولّد لديّ عند اختتام مؤتمر بوتسدام هو الإحساس بتعاظم دور الاتحاد السوفيتي كقوة مهيمنة على أوروبا بدون منازع ... واضطرت الولايات المتحدة وإنجلترا في بوتسدام إلى قبول العديد من القرارات المنفردة التي اتخذها الاتحاد السوفيتي منذ مؤتمر يالطا، وذلك بالرغم من العبارات الجوفاء للتصريح الختامي الذي حاول إخفاء هذه الحقيقة. ويمكن السبب الرئيسي لذلك في أقول القوة الانجليزية ... وانشغال فرنسا في البحث عن حالة استقرار لم تستطع تحقيقها حتى في فترة ما قبل الحرب ... وكان من الطبيعي أن تتحول كل من الولايات المتحدة والاتحاد السوفيتي إلى القوتين العظميين في العالم.»

الأميرال ليهي Leahy قائد الأركان العامة للقوات الأمريكية.

- 1- اشرح ما تحته خط في النص.
- 2- عرف الشخصيات التالية: - ميخائيل غورباتشوف - رونالد ريغن - ونستون تشرشل.
- 3- على خريطة العالم وقّع الدول التالية:  
بريطانيا - فرنسا - الولايات المتحدة الأمريكية - الاتحاد السوفيتي.
- 4- أكمل الجدول التالي:

التاريخ	الحدث
.....	مشروع مارشال
04 أفريل 1949	.....
1960 /12/11	.....
.....	تأسيس حلف وارسو
1990/10/03	.....
.....	مؤتمر باريس للأمن والتعاون

#### الجزء الثاني: (04 نقاط)

شهدت فرنسا أزمة سياسية بسبب تزايد انتصارات الثورة الجزائرية عسكريا وسياسيا في الداخل والخارج، قادت إلى حركة تمرد قضت على الجمهورية الفرنسية الرابعة، لتحل محلها الجمهورية الفرنسية الخامسة.

المطلوب: انطلاقا من الفقرة، واعتمادا على ما درست. اكتب مقالا تاريخيا تجيب فيه على:

- 1 - الاستراتيجية العسكرية التي اتبعتها الجمهورية الفرنسية الخامسة للقضاء على الثورة.
- 2- رد فعل الثورة الجزائرية.


## الجغرافيا

### الجزء الأول: ( 06 نقاط )

«... تتجاوز ثروة أغنى ثلاثة أشخاص في العالم الناتج الداخلي الخام للبلدان الفقيرة الثمانية والأربعين التي يبلغ تعداد سكانها 600 مليون نسمة وقد تجاوز الواقع هذه التقديرات بعد ستة أشهر من إصدارها من قبل منظمة الأمم المتحدة ، إذ تعادل ثروة بيل غيتس صاحب شركة مايكروسوفت وأغنى رجل في العالم الناتج الداخلي الخام للبلدان الأقل تقدما (50 بلدا) وتزداد الفجوة بين بلدان الشمال و الجنوب بطريقة مذهلة إذ تضاعف الفارق في الدخل بين 5/1 سكان العالم الأغنى وخمسهم الأفقر مرتين منذ الستينات .»

المصدر : تيري فاير 2005 مجلة إكسبسيون.

- 1- اشرح ما تحته خط في النص.
- 2- على خريطة العالم المرفقة، حدد بخط فاصل بين دول الشمال والجنوب.
- 3- إليك الشكل البياني الذي يمثل تطور نسبة السكان الذين يعيشون بأقل من دولار في اليوم من مجموع سكان مناطق العالم بين سنة 1980 و 2001.



المصدر : منظمة الأمم المتحدة تقرير التنمية البشرية للعام- 2005.

- علق على الرسم البياني.

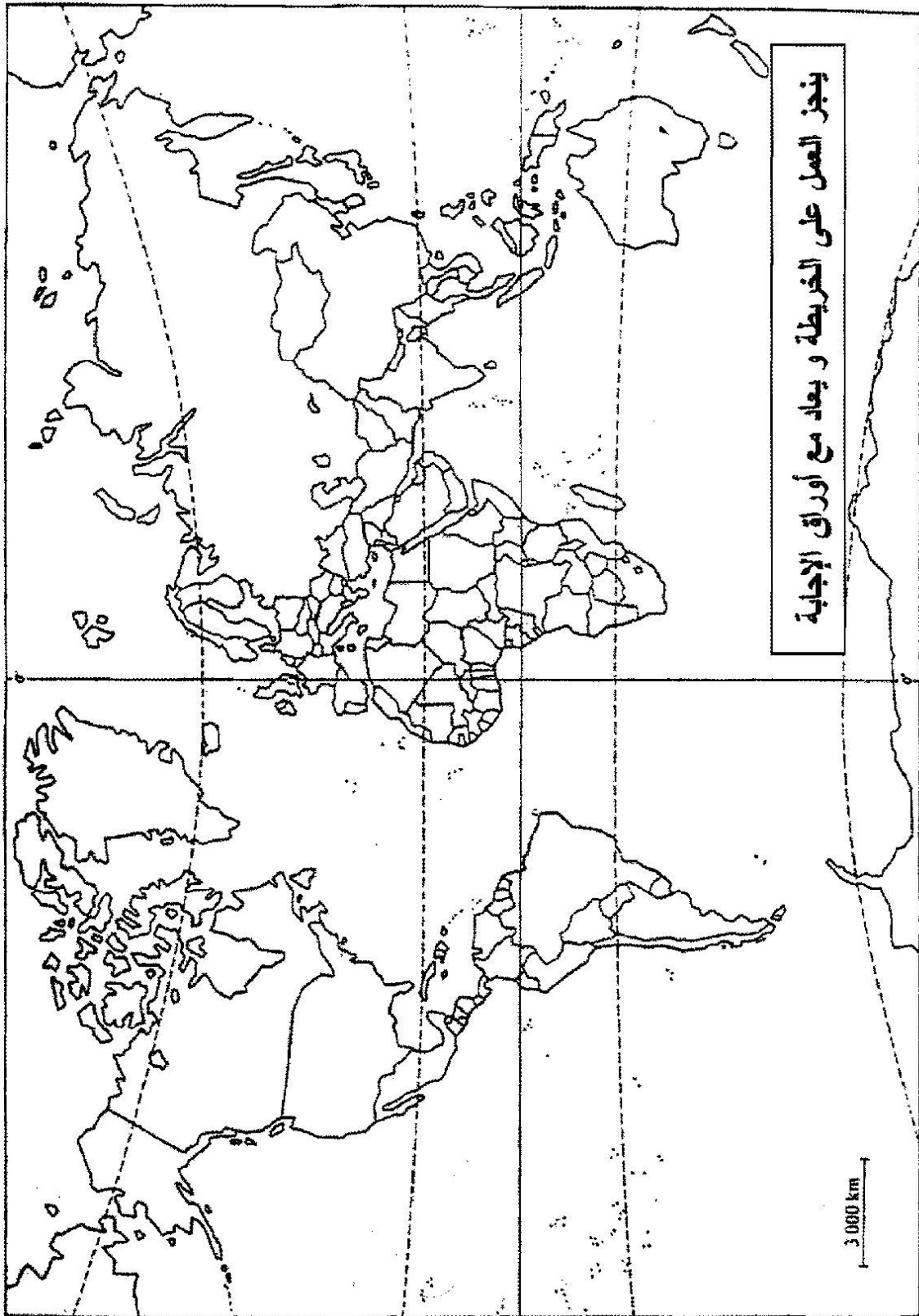
**الجزء الثاني: ( 04 نقاط )**

يؤكد "وون بدريار" في كتابه "أمريكا" أن اعتقاد الأمريكيين بأنهم يمثلون قلب العالم والقوة الأعظم فيه والنموذج الأمثل ليس خاطئا.

**المطلوب:** انطلاقا من الفكرة، واعتمادا على ما درست. اكتب مقالا جغرافيا تجيب فيه على:

1- مظاهر القوة الاقتصادية للولايات المتحدة الأمريكية .

2- أشكال النفوذ الاقتصادي الأمريكي في العالم .





خريطة العالم: توقيع الحد الفاصل بين دول الشمال و الجنوب

